

TEST PSICOTÉCNICO

1. Teniendo en cuenta que las imágenes pueden girar sobre su propio eje, ¿cuál de las siguientes imágenes es diferente?



2. Teniendo en cuenta que las imágenes pueden girar sobre su propio eje, ¿cuál de las siguientes imágenes es diferente?



3. Teniendo en cuenta que las imágenes pueden girar sobre su propio eje, ¿cuál de las siguientes imágenes es diferente?



4. Teniendo en cuenta que las imágenes pueden girar sobre su propio eje, ¿cuál de las siguientes imágenes es diferente?



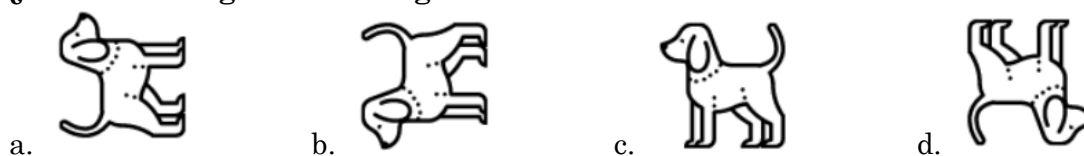
5. Teniendo en cuenta que las imágenes pueden girar sobre su propio eje, ¿cuál de las siguientes imágenes es diferente?



6. Teniendo en cuenta que las imágenes pueden girar sobre su propio eje, ¿cuál de las siguientes imágenes es diferente?



7. Teniendo en cuenta que las imágenes pueden girar sobre su propio eje, ¿cuál de las siguientes imágenes es diferente?



8. Teniendo en cuenta que las imágenes pueden girar sobre su propio eje, ¿cuál de las siguientes imágenes es diferente?



9. Teniendo en cuenta que las imágenes pueden girar sobre su propio eje, ¿cuál de las siguientes imágenes es diferente?



10. Teniendo en cuenta que las imágenes pueden girar sobre su propio eje, ¿cuál de las siguientes imágenes es diferente?



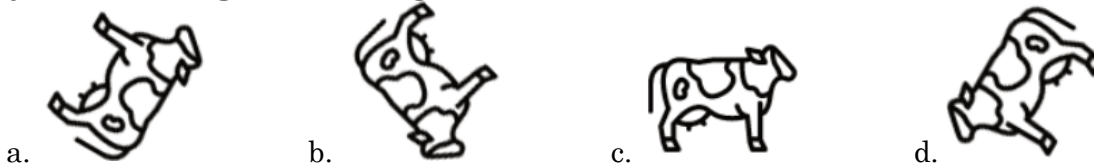
11. Teniendo en cuenta que las imágenes pueden girar sobre su propio eje, ¿cuál de las siguientes imágenes es diferente?




12. Teniendo en cuenta que las imágenes pueden girar sobre su propio eje, ¿cuál de las siguientes imágenes es diferente?



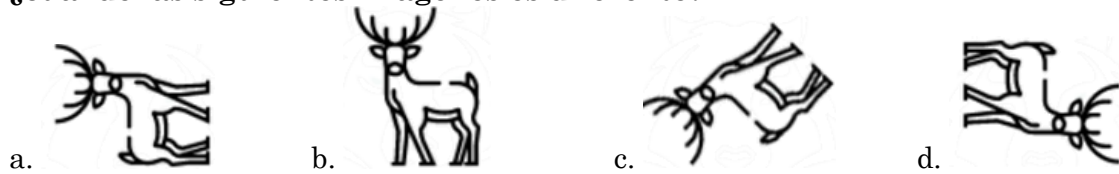
13. Teniendo en cuenta que las imágenes pueden girar sobre su propio eje, ¿cuál de las siguientes imágenes es diferente?



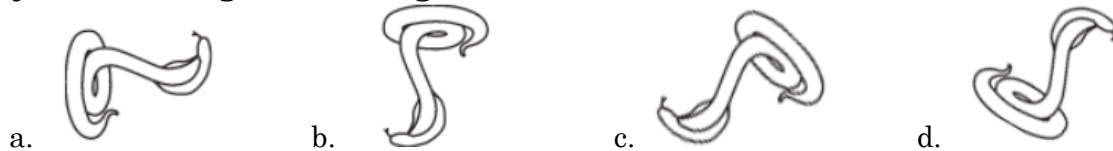
14. Teniendo en cuenta que las imágenes pueden girar sobre su propio eje, ¿cuál de las siguientes imágenes es diferente?



15. Teniendo en cuenta que las imágenes pueden girar sobre su propio eje, ¿cuál de las siguientes imágenes es diferente?



16. Teniendo en cuenta que las imágenes pueden girar sobre su propio eje, ¿cuál de las siguientes imágenes es diferente?




17. Teniendo en cuenta que las imágenes pueden girar sobre su propio eje, ¿cuál de las siguientes imágenes es diferente?



18. Teniendo en cuenta que las imágenes pueden girar sobre su propio eje, ¿cuál de las siguientes imágenes es diferente?



19. Teniendo en cuenta que las imágenes pueden girar sobre su propio eje, ¿cuál de las siguientes imágenes es diferente?



20. Teniendo en cuenta que las imágenes pueden girar sobre su propio eje, ¿cuál de las siguientes imágenes es diferente?

