

TEST PSICOTÉCNICO

CUADRO 1

	A	B	C	D	E	F	G	H
1								
2								
3								
4								
5								
6								
7								
8								

1. Teniendo en cuenta las figuras de la tabla, ¿que figura no aparece repetida en la tabla?

- a.
- b.
- c.
- d.

2. Teniendo en cuenta las figuras de la tabla, ¿en qué casilla aparece repetida esta figura: ?

- a. A-3
- b. C-4
- c. G-5
- d. F-4

3. Teniendo en cuenta las figuras de la tabla, en la casilla F-7 encontramos...


- a.
- b.
- c.
- d.

4. Teniendo en cuenta las figuras de la tabla, ¿cuántos vehículos de transporte aparecen?

- a. 21
- b. 19
- c. 20
- d. 18

5. Teniendo en cuenta las figuras de la tabla, ¿en qué fila aparecen estos símbolos: ?

- a. D
- b. 8
- c. 1
- d. H

6. Teniendo en cuenta las figuras de la tabla, ¿cuántas veces vemos la figura:  ?

- a. 3
- b. 6
- c. 4
- d. 5

7. Teniendo en cuenta las figuras de la tabla, en las tres primeras columnas, ¿cuántas personas de cuerpo completo vemos?

- a. 2
- b. 3
- c. 1
- d. ninguna

8. Teniendo en cuenta las figuras de la tabla, ¿cuántos bocadillos de cómic aparecen?

- a. 19
- b. 21
- c. 23
- d. 20

































































9. Teniendo en cuenta las figuras de la tabla, ¿cuántos aviones hay en la tabla?

- a. 3
- b. 5
- c. 4
- d. 2

10. Teniendo en cuenta las figuras de la tabla, ¿cuántas figuras son iguales pero tienen distinta posición en las cuatro primeras filas?

- a. 12
- b. 11
- c. 10
- d. 13

CUADRO 2

	A	B	C	D	E	F	G	H
1								
2								
3								
4								
5								
6								
7								
8								

11. Teniendo en cuenta las figuras de la tabla, ¿en qué casillas encontramos la figura:  ?

- a. D-2 y H-8
- b. D-2, G-3 y H-8
- c. D-3, G-4 y H-8
- d. D-2, G-4 y H-8




12. Teniendo en cuenta las figuras de la tabla, ¿qué figuras se encuentran consecutivamente en las casillas F-4 y F-5?

- a.   c.    
b.   d.  

13. Teniendo en cuenta las figuras de la tabla, ¿cuántos órganos humanos aparecen?

- a. 3 c. 8  
b. 4 d. 7


14. Teniendo en cuenta las figuras de la tabla, ¿en qué casilla encontraremos el siguiente símbolo: ?

- a. B-3 c. G-6  
b. A-8 d. C-4

15. Teniendo en cuenta las figuras de la tabla, ¿cuántos regalos aparecen en la tabla?

- a. 4 c. 2  
b. 3 d. 1

16. Teniendo en cuenta las figuras de la tabla, ¿que figura vemos en la casilla F-7?

- a.  c.   
b.  d. 

17. Teniendo en cuenta las figuras de la tabla, ¿en cuántas filas no aparece un vehículo de transporte terrestre?

- a. 1 c. 2  
b. 3 d. ninguna

18. Teniendo en cuenta las figuras de la tabla, ¿cuántos bocadillos aparecen en las cinco últimas columnas?

- a. 6 c. 9  
b. 10 d. 11

19. Teniendo en cuenta las figuras de la tabla, ¿en qué columna aparece el escudo?

- a. 4 c. 5  
b. C d. D

20. Teniendo en cuenta las figuras de la tabla, ¿en la casilla C-4 que figura vemos?

- a.  c.   
b.  d. 

CUADRO 3

	A	B	C	D	E	F	G	H
1								
2								
3								
4								
5								
6								
7								
8								

21. Teniendo en cuenta las figuras de la tabla, ¿qué número aparece repetido?

- a. 6  
b. 4  
c. 3  
d. 1

22. Teniendo en cuenta las figuras de la tabla, ¿cuántas flechas en todas sus formas aparecen?

- a. 13  
b. 16  
c. 14  
d. 15

23. Teniendo en cuenta las figuras de la tabla, ¿en qué fila aparece repetida la figura: ↑?

- a. H  
b. 8  
c. 5  
d. 1

24. Teniendo en cuenta las figuras de la tabla, ¿cuántas flores hay en la tabla?

- a. 10  
b. 9  
c. 11  
d. 8

25. Teniendo en cuenta las figuras de la tabla, ¿cuántos cuadros hay en la tabla con figuras?

- a. 57  
b. 58  
c. 56  
d. 55



26. Teniendo en cuenta las figuras de la tabla, si sumásemos todos los números negros y restásemos los números blancos que aparecen en la tabla, ¿qué cantidad nos daría?

- a. 11
- b. 13
- c. 7
- d. 14

27. Teniendo en cuenta las figuras de la tabla, ¿qué símbolo podemos ver en la casilla F-6?

- a.
- b.
- c.
- d.

29. Teniendo en cuenta las figuras de la tabla, ¿qué figura aparece repetida?

- a.
- b.
- c.
- d.

30. Teniendo en cuenta las figuras de la tabla, ¿cuántas clases de flechas distintas aparecen independientemente de su sentido?

- a. 4
- b. 3
- c. 5
- d. 6