

TEST PSICOTÉCNICO

Lea atentamente las siguientes instrucciones:

- Lea con atención cada una de las preguntas y respuestas antes de responder.
- Conteste rápido y no se detenga.
- Si una pregunta se le resiste, pase a la siguiente.
- Intente llegar al final.
- Las respuestas erróneas penalizan; si duda, no conteste.

Pregunta 1

Observe el siguiente cuadro con varios símbolos en su interior. A continuación encontrará otros cuadros del mismo tamaño y dentro de ellos cuatro interrogantes que sustituyen a algunos símbolos del cuadro de la izquierda. Su tarea consiste en averiguar a qué símbolo corresponde cada interrogante y seleccionar la opción que los contenga.

○	□	卐	☼	✱
✱	卐	☼	□	⊕
○	□	☼	✱	◆
✱	⊕	⊕	☼	☼
⊕	☼	◆	⊕	⊕

A	◆	✱	○	☼
B	◆	✱	卐	◆
C	◆	◆	✱	卐
D	✱	卐	◆	◆

?	?			
				?

Pregunta 2

Observe el siguiente cuadro con varios símbolos en su interior. A continuación encontrará otros cuadros del mismo tamaño y dentro de ellos cuatro interrogantes que sustituyen a algunos símbolos del cuadro de la izquierda. Su tarea consiste en averiguar a qué símbolo corresponde cada interrogante y seleccionar la opción que los contenga.

☼	☼	✱	✱	▲
▲	★	▲	☼	⊕
★	▲	☼	✱	▲
▲	☼	☼	☼	★
★	★	✱	✱	☼


A	☼	☼	✱	▲
B	☼	☼	☼	★
C	✱	▲	☼	☼
D	▲	☼	☼	☼

				?
?				
		?		
				?




Pregunta 3

Observe el siguiente cuadro con varios símbolos en su interior. A continuación encontrará otros cuadros del mismo tamaño y dentro de ellos cuatro interrogantes que sustituyen a algunos símbolos del cuadro de la izquierda. Su tarea consiste en averiguar a qué símbolo corresponde cada interrogante y seleccionar la opción que los contenga.




A	↙	↘	▲	⊠
B	▲	↙	⊕	↘
C	↘	⊕	▲	↙
D	⊕	▲	↙	↘




Pregunta 4

Observe el siguiente cuadro con varios símbolos en su interior. A continuación encontrará otros cuadros del mismo tamaño y dentro de ellos cuatro interrogantes que sustituyen a algunos símbolos del cuadro de la izquierda. Su tarea consiste en averiguar a qué símbolo corresponde cada interrogante y seleccionar la opción que los contenga.




A	⊕	⊕	☀	◐
B	⊕	◐	⊕	☀
C	⊕	☀	⊕	⊕
D	☀	⊕	⊕	◐




Pregunta 5

Observe el siguiente cuadro con varios símbolos en su interior. A continuación encontrará otros cuadros del mismo tamaño y dentro de ellos cuatro interrogantes que sustituyen a algunos símbolos del cuadro de la izquierda. Su tarea consiste en averiguar a qué símbolo corresponde cada interrogante y seleccionar la opción que los contenga.




A	✳	◆	★	✳
B	✳	◆	▲	★
C	▲	✳	◆	★
D	★	▲	✳	✳






Pregunta 6

Observe el siguiente cuadro con varios símbolos en su interior. A continuación encontrará otros cuadros del mismo tamaño y dentro de ellos cuatro interrogantes que sustituyen a algunos símbolos del cuadro de la izquierda. Su tarea consiste en averiguar a qué símbolo corresponde cada interrogante y seleccionar la opción que los contenga.




A	▼	🌐	👤	☹️
B	🌐	👤	▼	😊
C	☹️	▼	👤	🌐
D	👤	🌐	😊	▼




Pregunta 7

Observe el siguiente cuadro con varios símbolos en su interior. A continuación encontrará otros cuadros del mismo tamaño y dentro de ellos cuatro interrogantes que sustituyen a algunos símbolos del cuadro de la izquierda. Su tarea consiste en averiguar a qué símbolo corresponde cada interrogante y seleccionar la opción que los contenga.




A	📐	✳️	❖	⚙️
B	❖	⊕	✳️	📐
C	⊕	📐	❖	✳️
D	✳️	📐	❖	⊕




Pregunta 8

Observe el siguiente cuadro con varios símbolos en su interior. A continuación encontrará otros cuadros del mismo tamaño y dentro de ellos cuatro interrogantes que sustituyen a algunos símbolos del cuadro de la izquierda. Su tarea consiste en averiguar a qué símbolo corresponde cada interrogante y seleccionar la opción que los contenga.



A	⊕	✳️	✳️	✳️
B	✳️	★	⊕	✳️
C	★	✳️	✳️	⊕
D	★	⊕	✳️	✳️




opositas




Pregunta 9

Observe el siguiente cuadro con varios símbolos en su interior. A continuación encontrará otros cuadros del mismo tamaño y dentro de ellos cuatro interrogantes que sustituyen a algunos símbolos del cuadro de la izquierda. Su tarea consiste en averiguar a qué símbolo corresponde cada interrogante y seleccionar la opción que los contenga.




A	cross	globe	left arrow	right arrow
B	left arrow	right arrow	globe	cross
C	right arrow	cross	left arrow	globe
D	globe	right arrow	cross	left arrow




Pregunta 10

Observe el siguiente cuadro con varios símbolos en su interior. A continuación encontrará otros cuadros del mismo tamaño y dentro de ellos cuatro interrogantes que sustituyen a algunos símbolos del cuadro de la izquierda. Su tarea consiste en averiguar a qué símbolo corresponde cada interrogante y seleccionar la opción que los contenga.




A	circle with arrow	asterisk	square	asterisk
B	asterisk	square	circle with arrow	asterisk
C	circle with arrow	asterisk	asterisk	square
D	asterisk	circle with arrow	asterisk	square




Pregunta 11

Observe el siguiente cuadro con varios símbolos en su interior. A continuación encontrará otros cuadros del mismo tamaño y dentro de ellos cuatro interrogantes que sustituyen a algunos símbolos del cuadro de la izquierda. Su tarea consiste en averiguar a qué símbolo corresponde cada interrogante y seleccionar la opción que los contenga.



A	cross	asterisk	infinity	infinity
B	infinity	asterisk	cross	asterisk
C	asterisk	infinity	infinity	cross
D	infinity	cross	infinity	asterisk




opositas




Pregunta 12

Observe el siguiente cuadro con varios símbolos en su interior. A continuación encontrará otros cuadros del mismo tamaño y dentro de ellos cuatro interrogantes que sustituyen a algunos símbolos del cuadro de la izquierda. Su tarea consiste en averiguar a qué símbolo corresponde cada interrogante y seleccionar la opción que los contenga.




A	◆	⊗	▲	☆
B	★	◆	⊗	▲
C	◆	★	▲	⊗
D	⊗	▲	★	◆




Pregunta 13

Observe el siguiente cuadro con varios símbolos en su interior. A continuación encontrará otros cuadros del mismo tamaño y dentro de ellos cuatro interrogantes que sustituyen a algunos símbolos del cuadro de la izquierda. Su tarea consiste en averiguar a qué símbolo corresponde cada interrogante y seleccionar la opción que los contenga.



A	□	★	○	⊗
B	□	⊗	★	□
C	⊗	□	★	□
D	□	★	⊗	□




Pregunta 14

Observe el siguiente cuadro con varios símbolos en su interior. A continuación encontrará otros cuadros del mismo tamaño y dentro de ellos cuatro interrogantes que sustituyen a algunos símbolos del cuadro de la izquierda. Su tarea consiste en averiguar a qué símbolo corresponde cada interrogante y seleccionar la opción que los contenga.



A	↘	☠	🗄	▶
B	☠	🗄	📡	↘
C	🗄	☠	↘	📡
D	↘	📡	🗄	☠






Pregunta 15

Observe el siguiente cuadro con varios símbolos en su interior. A continuación encontrará otros cuadros del mismo tamaño y dentro de ellos cuatro interrogantes que sustituyen a algunos símbolos del cuadro de la izquierda. Su tarea consiste en averiguar a qué símbolo corresponde cada interrogante y seleccionar la opción que los contenga.




A	Person	Star	Asterisk	Star	Crosshair
B	Star	Star	Crosshair	Person	Asterisk
C	Asterisk	Crosshair	Person	Star	Star
D	Star	Person	Crosshair	Asterisk	Star




Pregunta 16

Observe el siguiente cuadro con varios símbolos en su interior. A continuación encontrará otros cuadros del mismo tamaño y dentro de ellos cuatro interrogantes que sustituyen a algunos símbolos del cuadro de la izquierda. Su tarea consiste en averiguar a qué símbolo corresponde cada interrogante y seleccionar la opción que los contenga.



A	Battery	Smiley	Asterisk	Arrow	Skull
B	Asterisk	Arrow	Car	Skull	Smiley
C	Smiley	Battery	Asterisk	Lightbulb	Arrow
D	Arrow	Smiley	Skull	Car	Asterisk




Pregunta 17

Observe el siguiente cuadro con varios símbolos en su interior. A continuación encontrará otros cuadros del mismo tamaño y dentro de ellos cuatro interrogantes que sustituyen a algunos símbolos del cuadro de la izquierda. Su tarea consiste en averiguar a qué símbolo corresponde cada interrogante y seleccionar la opción que los contenga.




A	No	Yin-yang	Cloud	House	Skull
B	Lightbulb	House	No	Yin-yang	Cloud
C	House	Cloud	Lightbulb	No	Yin-yang
D	Cloud	No	Yin-yang	House	Lightbulb






Pregunta 18

Observe el siguiente cuadro con varios símbolos en su interior. A continuación encontrará otros cuadros del mismo tamaño y dentro de ellos cuatro interrogantes que sustituyen a algunos símbolos del cuadro de la izquierda. Su tarea consiste en averiguar a qué símbolo corresponde cada interrogante y seleccionar la opción que los contenga.



A					
B					
C					
D					




Pregunta 19

Observe el siguiente cuadro con varios símbolos en su interior. A continuación encontrará otros cuadros del mismo tamaño y dentro de ellos cuatro interrogantes que sustituyen a algunos símbolos del cuadro de la izquierda. Su tarea consiste en averiguar a qué símbolo corresponde cada interrogante y seleccionar la opción que los contenga.



A					
B					
C					
D					



Pregunta 20

Observe el siguiente cuadro con varios símbolos en su interior. A continuación encontrará otros cuadros del mismo tamaño y dentro de ellos cuatro interrogantes que sustituyen a algunos símbolos del cuadro de la izquierda. Su tarea consiste en averiguar a qué símbolo corresponde cada interrogante y seleccionar la opción que los contenga.



A					
B					
C					
D					

