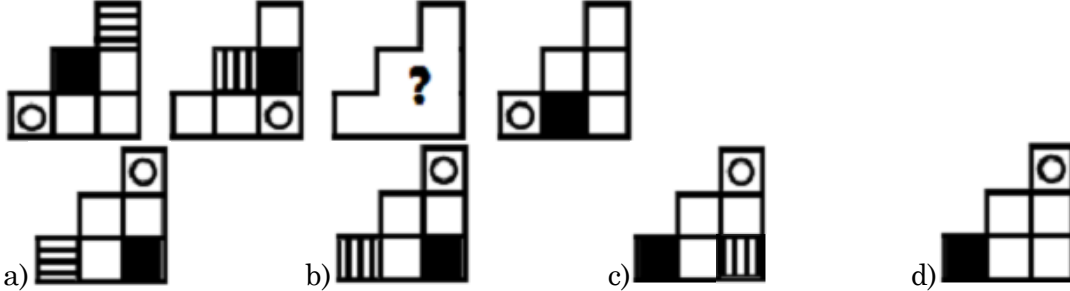


TEST PSICOTÉCNICO

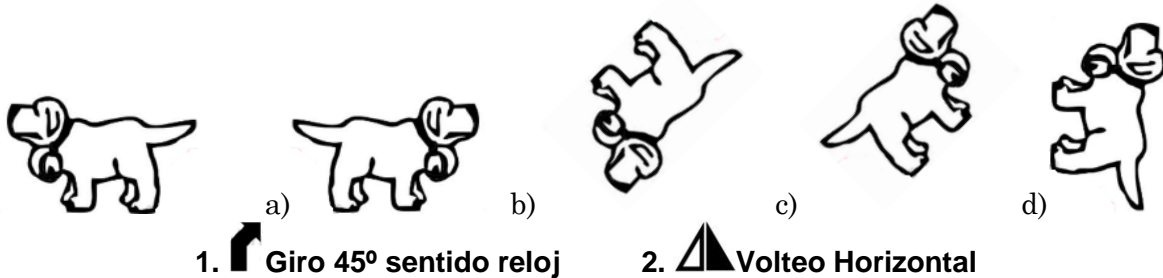
1. ¿Cuál de los resultados de las operaciones que se proponen es correcto:

- a) $4 * 9 + 3 - 15 + 1 + 2 - 18 * 2 - 8 + 2 = 10$
- b) $3 * 6 + 2 - 11 + 2 - 7 * 4 + 8 + 3 + 5 = 7$
- c) $7 * 6 - 25 + 13 * 2 - 25 + 2 - 10 + 4 * 2 = 18$
- d) $18 - 2 * 7 + 5 + 7 - 8 + 10 * 2 - 9 = 23$

2. Señala la opción que completaría la serie.



3. ¿Cuál es la figura que resulta de aplicar la/s orden/es siguientes?



1. Giro 45° sentido reloj

2. Volteo Horizontal

4. En la frase “Su mirada aviesa, parecía anunciar lo que iba a suceder”.
¿Qué quiere decir “aviesa”?

- a) penetrante, misteriosa
- b) lánguida, dormida
- c) torcida, mala
- d) soñadora, imaginativa

5. Indica la letra que continuaría la serie:

a - b - c - e - h - m -

- a) t
- b) s
- c) v
- d) x

6. Para elaborar un pastel, María ha utilizado tres paquetes de harina completos y $\frac{3}{5}$ de otro; y Gloria ha utilizado dos paquetes completos y $\frac{3}{4}$ de otro. Si cada paquete pesa un kilo, ¿qué cantidad de harina han gastado entre las dos?

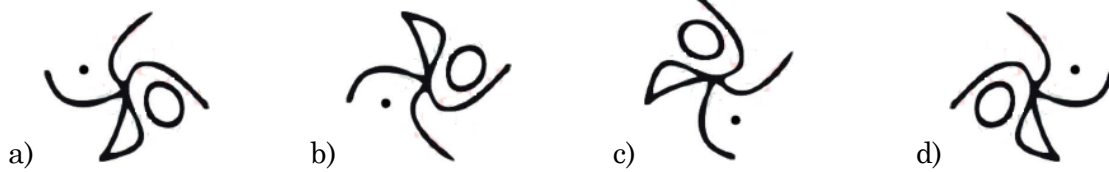
- a) 6 kg y 250 gramos
- b) 5 kg y 750 gramos
- c) 5 kg y 350 gramos
- d) 6 kg y 350 gramos

7. Si las letras pares del abecedario estuvieran tachadas. ¿Cuál sería la undécima letra no tachada?

- a) p
- b) q
- c) r
- d) t



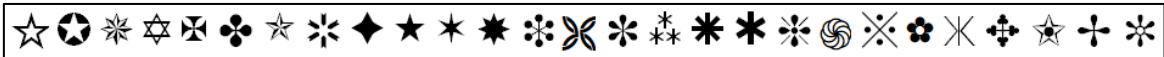
8. ¿Qué figura es diferente al resto?



9. Resuelve: $-(-3) - [2 - (-5 + 7) - 4] - 2 + (-5 - 3) =$

- a) 0
- b) - 13
- c) - 3
- d) + 3

A continuación verás el alfabeto que utilizan en un país exótico.



10. Averigua la ley que sigue la serie y responde qué símbolo la continúa:

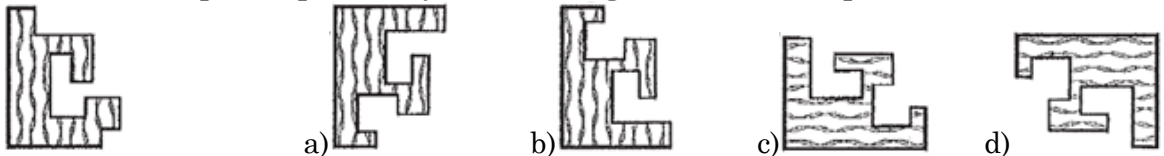


- a)
- b)
- c)
- d)

11. Señala el sinónimo de *hirsuto*.

- a) marchito
- b) flaco
- c) espinoso
- d) suave

12. Señala la pieza que encaja con el fragmento de la izquierda:



13. Tres amigos se dedican a distintas profesiones. Uno es Representante, otro es Maestro y el tercero es Topógrafo. Cada uno de ellos tiene un hijo varón que en el momento de elegir carrera no quiere ser como su padre, sino dedicarse a la profesión de alguno de sus otros dos amigos. Sabiendo que el Representante se llama Antonio y que el hijo de Juan quiere ser Maestro, ¿a qué se dedica el hijo de Jaime?

- a) Representante
- b) Maestro
- c) Topógrafo
- d) No se sabe

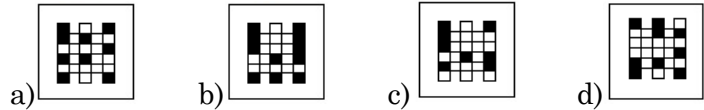

14. En una oficina trabajan veinte personas con las siguientes edades: cinco personas de 25 años, tres personas de 37 años, cuatro de 38 años, dos de 43 y seis de 50. ¿Cuál es la media de edad en esa oficina?

- a) 38,7
- b) 40,5
- c) 50,2
- d) 43,5

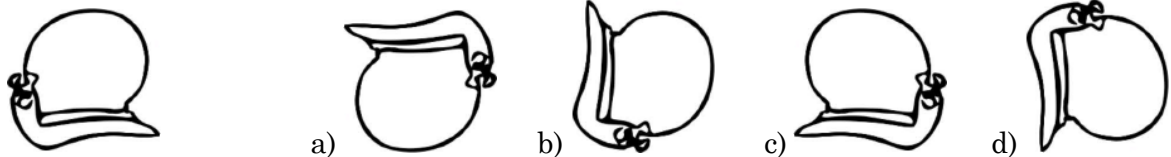
15. Indica la opción que es diferente:



16. En la siguiente matriz escoge de entre las opciones de respuesta la figura que sigue el razonamiento lógico de la serie.



17. ¿Cuál es la figura que resulta de aplicar la/s orden/es siguientes?



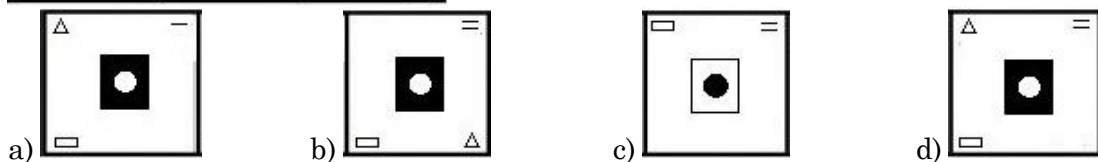
1. Giro 45° sentido reloj 2. Giro 45° sentido reloj 3. Volteo vertical

18. Resuelve:

$$\left(\frac{1}{4} + \frac{1}{6}\right)\left(\frac{1}{4} - \frac{1}{6}\right) =$$

- a) $\frac{5}{240}$ c) $\frac{20}{24}$
b) $\frac{5}{144}$ d) ninguna de las anteriores

19. Señala la opción que completaría la serie.



20. Tres personas están comprando uvas y plátanos. ¿Cuál de ellas gastó más dinero?

	Plátanos: 8€/kg	Uva: 3 €/kg
Comprador A	750 grs	2 kg
Comprador B	0,5 kg	1/3 kg
Comprador C	1 kg	1.500 grs

- a) Comprador A
b) Comprador C
c) Comprador B
d) no hay diferencia

21. Indica el antónimo de *pérfido*:

- a) fementido c) noble
b) electo d) diabólico

30. Debes detectar en qué opción de respuestas se ha alterado el orden alfabético.

- a. papiloma, papista, papilla, paquete
b. blonda, bloque, bloquear, blusón
c. renegrado, renglón, reniforme, renitente
d. somatizar, somatología, sombra, somier

31. Resuelve:

$$\frac{3}{5} : \left[\frac{4}{5} - 3 \left(2 - \frac{4}{5} \right) \right] =$$

- a) $-\frac{20}{70}$
b) $-\frac{3}{14}$
c) $-\frac{2}{7}$
d) $-\frac{15}{42}$

32. ¿Cuál de las siguientes palabras no pertenece al conjunto?

- a) Terror
b) Pavor
c) Horror
d) Bizarria

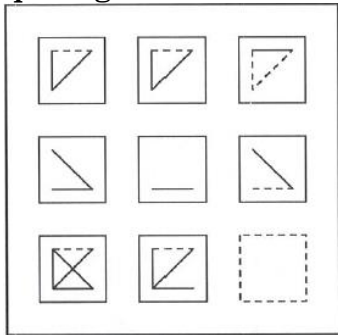
33. Una editorial imprime diariamente 500 libros, de los cuales 2/8 corresponden a libros de cocina, 1/5 a decoración, 3/10 a moda y el resto son novelas. Teniendo en cuenta que en la editorial se trabaja 5 días a la semana, ¿cuántas novelas se imprimen durante una semana?

- a) 625 novelas
b) 545 novelas
c) 375 novelas
d) 465 novelas

34. Indica el sinónimo de *devenir*.

- a) realidad
b) acontecer
c) estancar
d) consecuencia

35. En la siguiente matriz escoge de entre las opciones de respuesta la figura que sigue el razonamiento lógico de la serie.



- a) b) c) d)

36. Lasitud es a desfallecimiento como _____ es a _____.

- a) prontitud – decelerar
b) similitud – dispar
c) plenitud – apogeo
d) ineptitud – capacidad

37. Indica la letra que continuaría la serie en segundo lugar:

h - x - i - j - x - y - k - l - m - x - y - z - n - ñ - o - p - x - y - z -

- a) a
b) q
c) c
d) r

38. Calcula: (2/5 de 15) + (12/13 de 702):

- a) 708
b) 515
c) 688
d) 654

39. Indica la opción que es distinta.



40. Indica cuál de las cuatro definiciones es la más correcta de la palabra *cilanco*:

- a) cima o parte superior de un monte
- b) charco que deja un río en la orilla al retirar sus aguas, o en el fondo cuando se ha secado
- c) masa que resulta de la mezcla de tierra y agua
- d) basto, ordinario y sin arte

41. Se reparten 5.650 entre 15 socios. Los ocho primeros recibieron 400 euros cada uno y el resto se reparte a partes iguales entre los siete restantes. ¿Cuánto recibió cada uno de esos siete socios?:

- a) 250
- b) 350
- c) 300
- d) 325

42. Tras leer el texto, contesta a la siguiente pregunta: ¿Cuánto recauda España menos con respecto a la Unión Europea por tabaco y alcohol?

El colectivo de técnicos del Ministerio de Hacienda (Gestha) avisa de que las nuevas medidas fiscales aprobadas este viernes por el Consejo de Ministros solo suponen un primer paso hacia más subidas fiscales durante la actual legislatura. Aunque respaldan el aumento impositivo de casi 5.000 millones, entienden que es solo una primera fase para reducir el déficit público, que inevitablemente tendrá su continuación el próximo año, a no ser que se refuerce realmente la lucha contra el fraude y la evasión fiscal. En concreto, los técnicos señalan que este primer paquete de medidas fiscales representa apenas un 9,5% de la recaudación diferencial. De casi 54.000 millones que separan a España con la media ponderada de la Unión Europea. Sobre este diferencia, explican que España recauda por el IRPF 17.673 millones menos; 5.000 millones menos por las rentas del capital, 4.346 millones menos por el impuesto sobre Sociedades, 512 millones menos por tabaco y alcohol y 247 millones menos por los diferentes impuestos medioambientales. En este sentido, aunque Gestha reconoce que estas medidas aumentarán la tributación de las grandes sociedades en 4.300 millones – lo que reducirá casi en su totalidad el diferencial de este impuesto con Europa –, resalta que no hay aumento de la carga impositiva, sino simplemente se difieren a los próximos años las posibilidades de compensar bases impositivas negativas y deducciones para evitar la doble imposición, con lo cual los 4.300 millones que ahora se ingresan, se dejarán de ingresar en el futuro. Por tanto, se trata de medidas “simplemente coyunturales” para cumplir el déficit. Como ya señaló el colectivo, desde el inicio de la crisis la recaudación por Sociedades se ha hundido un 55% desde los 44.823 millones recaudados en 2.007, lo que supone una pérdida acumulada de ingresos en los últimos ejercicios de 173.000 millones de euros.

“Noticia extraída de 20 minutos”/

- a) 5000 millones
- b) 512 millones
- c) 4346 millones
- d) 247 millones

43. Completa la serie con la opción que la completaría.

