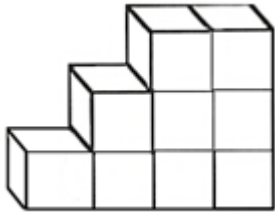


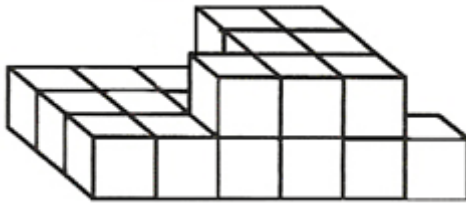
TEST PSICOTÉCNICO

1. Señala el número de cubos que aparecen en la figura:



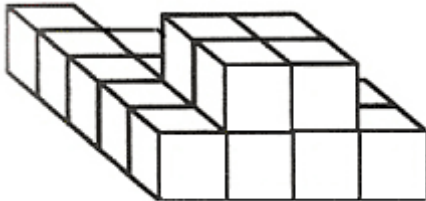
- a. 9
- b. 8
- c. 10
- d. 11

2. Señala el número de cubos que aparecen en la figura:



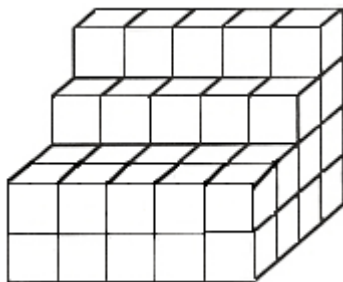
- a. 22
- b. 21
- c. 24
- d. 23

3. Señala el número de cubos que aparecen en la figura:



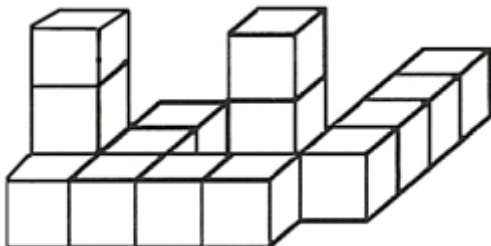
- a. 16
- b. 17
- c. 18
- d. 19

4. Señala el número de cubos que aparecen en la figura:



- a. 56
- b. 55
- c. 54
- d. 45

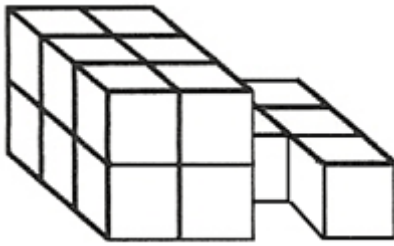
5. Señala el número de cubos que aparecen en la figura:



- a. 17
- b. 18
- c. 16
- d. 15

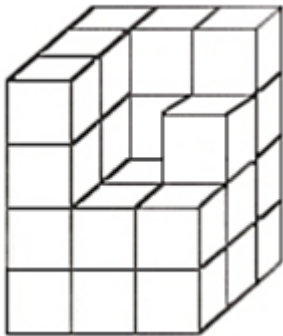


6. Señala el número de cubos que aparecen en la figura:



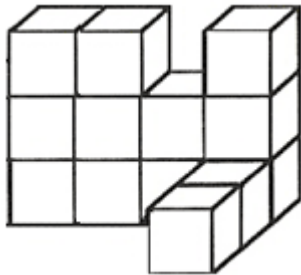
- a. 15
- b. 16
- c. 18
- d. 17

7. Señala el número de cubos que aparecen en la figura:



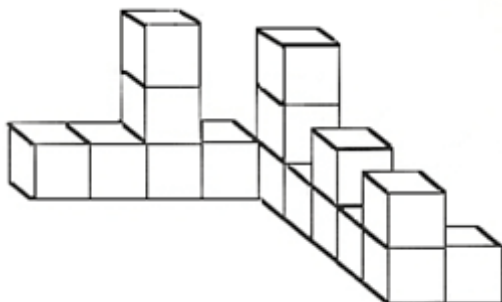
- a. 30
- b. 29
- c. 28
- d. 27

8. Señala el número de cubos que aparecen en la figura:



- a. 13
- b. 12
- c. 14
- d. 11

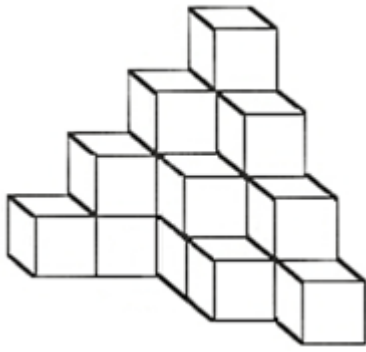
9. Señala el número de cubos que aparecen en la figura:



- a. 16
- b. 15
- c. 14
- d. 17

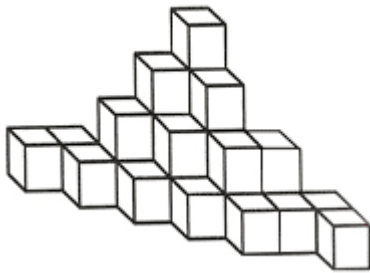


10. Señala el número de cubos que aparecen en la figura:



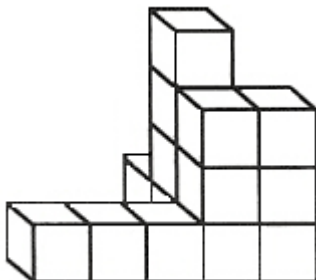
- a. 17
- b. 20
- c. 19
- d. 18

11. Señala el número de cubos que aparecen en la figura:



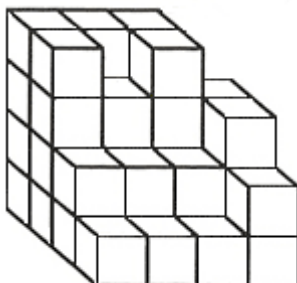
- a. 27
- b. 25
- c. 28
- d. 26

12. Señala el número de cubos que aparecen en la figura:



- a. 13
- b. 15
- c. 16
- d. 14

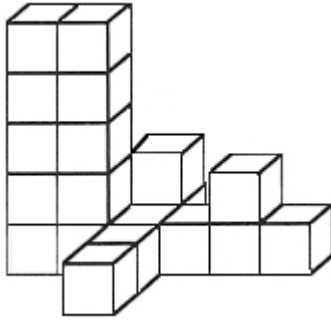
13. Señala el número de cubos que aparecen en la figura:



- a. 39
- b. 40
- c. 38
- d. 41

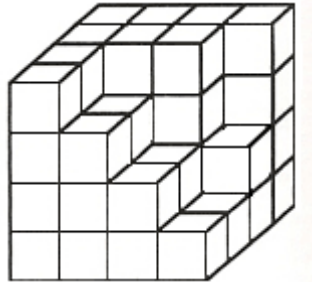


14. Señala el número de cubos que aparecen en la figura:



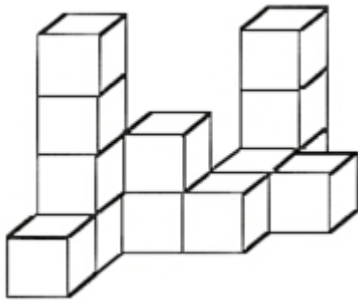
- a. 19
- b. 18
- c. 17
- d. 20

15. Señala el número de cubos que aparecen en la figura:



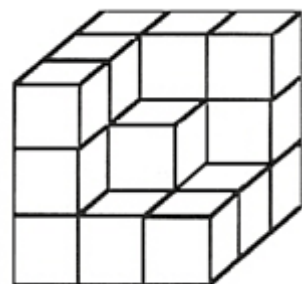
- a. 50
- b. 46
- c. 52
- d. 48

16. Señala el número de cubos que aparecen en la figura:



- a. 12
- b. 13
- c. 14
- d. 11

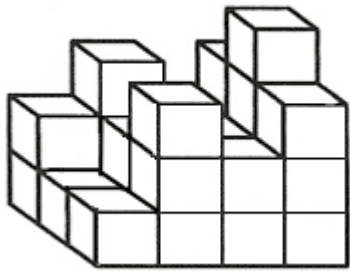
17. Señala el número de cubos que aparecen en la figura:



- a. 20
- b. 19
- c. 18
- d. 21

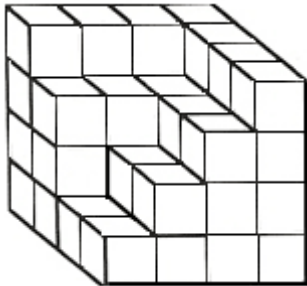


18. Señala el número de cubos que aparecen en la figura:



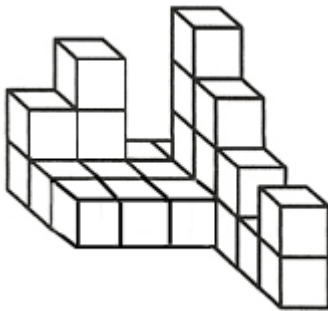
- a. 24
- b. 25
- c. 26
- d. 29

19. Señala el número de cubos que aparecen en la figura:



- a. 48
- b. 47
- c. 49
- d. 50

20. Señala el número de cubos que aparecen en la figura:



- a. 25
- b. 26
- c. 24
- d. 23