

TEST PSICOTÉCNICO REPASO GENERAL NÚMERO 01

- 1.- Delincuente es a Encarcelamiento como Inocente es a ...
 - a) Injusticia
 - b) Liberación
 - c) Culpabilidad
 - d) Juicio

- 2.- Indique qué palabra significa lo contrario de ALEGRE:
 - a) Enfadado
 - b) Apenado
 - c) Distante
 - d) Antipático

- 3.- Indique qué palabra significa lo mismo que GRATO:
 - a) Extraordinario
 - b) Satisfactorio
 - c) Gradual
 - d) Valioso

- 4.- A la palabra o dicho que normalmente se da como respuesta salida de tono, con brusquedad y enfado es:
 - a) Excelso
 - b) Exabrupto
 - c) Éxodo
 - d) Expectativo

- 5.- Resuelve la siguiente ecuación matemática:
$$28X^2 - 11X \times 3X = -7X^2 + 242 \quad X = ?$$
 - a) ± 9
 - b) ± 12
 - c) ± 11
 - d) ± 8

- 6.- ¿Qué superficie tiene la exposición de coches, sin contar la oficina ni el vestíbulo?



- a) 632,25 m²
- b) 666,00 m²
- c) 33,75 m²
- d) 656,25 m²



7.- Indique que palabra significa lo mismo que Cándido:

- a) Moderado
- b) Apacible
- c) Ingenuo
- d) Complicado

8.- A que opción (A, B, C o D) se corresponde como el significado de la instancia psíquica a través de la cual el individuo se reconoce como yo y es consciente de su propia identidad:

- a) Egocentrismo
- b) Ególatra
- c) Cognitivo
- d) Ego

9.- Enardecer es a Serenar como diligenciar es a ...

- a) Perder
- b) Menoscabar
- c) Desatender
- d) Perjudicar

10.- En la hoja de solicitud de préstamo de libros, hay tres preguntas señaladas P1, P2 y P3, que aportan información estadística sobre el tipo y número de solicitudes de material.

- P1 pregunta el número de libros solicitados en los tres últimos meses. Se debe poner el número apropiado.
- P2 pregunta si se ha solicitado un libro de Tráfico en ese periodo. Codifique SÍ con A y NO con B.
- P3 pregunta si se ha solicitado un libro de Legislación (en ese período), al código A en cada una de las preguntas P2 y P3 se añadirá una Z.
- Los que no hayan solicitado libros en los últimos tres meses, tendrán que codificarlo con la letra Y en las preguntas P2 y P3.

El solicitante número 2, pidió cuatro libros, uno de Legislación, dos de Tráfico y uno de Informática (en los tres últimos meses).

- | | | |
|-----------|---------|---------|
| a) P1 = 4 | P2 = AZ | P3 = AZ |
| b) P1 = 3 | P2 = AZ | P3 = A |
| c) P1 = 4 | P2 = A | P3 = 2 |
| d) P1 = 4 | P2 = BZ | P3 = BZ |

11.- Si la letra J representa la edad de Juan; la P la de su padre, ¿Cuál de las fórmulas expresa que Juan tiene 26 años menos que su padre?

- a) $J + P = 26$
- b) $J - 26 = P$
- c) $J + 26 = P$
- d) Ninguna de ellas

12.- Indique qué palabra significa lo contrario de Carestía:

- a) Importancia
- b) Grandeza
- c) Capacidad
- d) Abundancia

13.- La llamada general de emergencia por los altavoces es código 54. El código 62 es un simulacro de la llamada general de emergencia. Cuando escuche la llamada general de emergencia, diríjase inmediatamente a su Unidad Central. Cuando escuche el código 62, el jefe de su unidad le indicará a dónde dirigirse. El código 55 debe ignorarlo, pues solo solo sirve para probar los equipos de comunicaciones. ¿Qué indica el código 62?:

- a) Una llamada general de emergencia.
- b) Un simulacro de llamada general de emergencia.
- c) Que el equipo de comunicaciones está siendo probado.
- d) Que debe dirigirse a su Unidad Central.

14.- ¿Qué número escribiría en lugar de 349.638 al redondearlo a la centena más próxima?:

- a) 349.600
- b) 349.640
- c) 350.000
- d) Ninguno de ellos

15.- Señale cuántas palabras de las siguientes contienen algún error ortográfico:

Jerifaltes, periodicamente, cabidad, treinta y un, aljibe, habia, improbisar, orihundos.

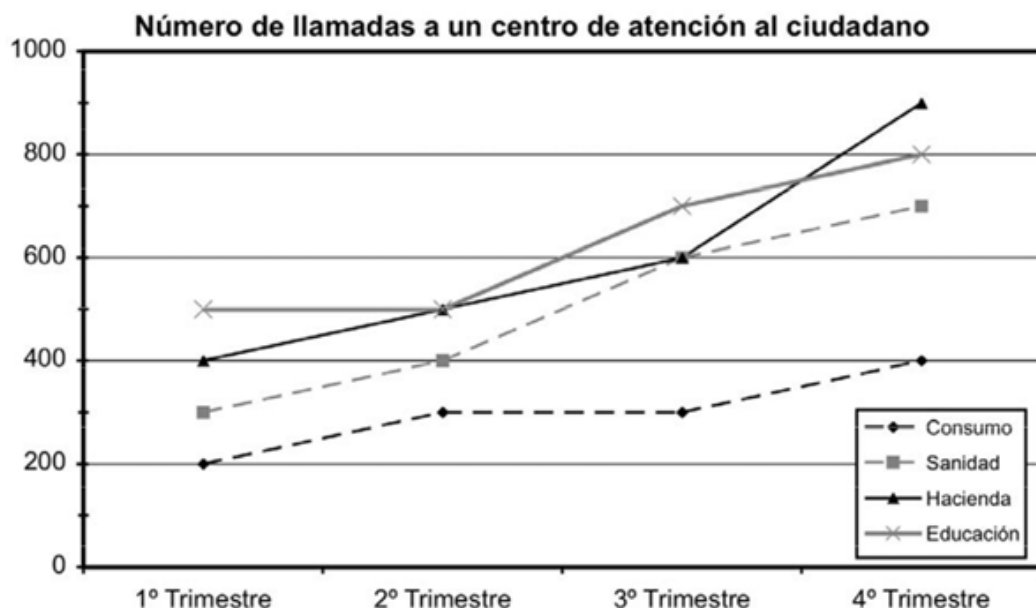
- a) 7
- b) 5
- c) 6
- d) 4

16.- Señale la letra que continúa la serie siguiente:

a b f g k l o ...

- a) q
- b) p
- c) ñ
- d) r

A continuación, aparece un gráfico que recoge el número de llamadas recibidas por trimestre en un centro de atención al ciudadano. Éstas aparecen desglosadas según el tipo de consulta (consumo, hacienda, sanidad y educación). Observe la información contenida en dicho gráfico y responda a las preguntas que aparecen a continuación.



17.- ¿Cuál ha sido la media trimestral de llamadas sobre hacienda?

- a) 500
- b) 600
- c) 700
- d) 800

18.- ¿En qué área se ha producido un mayor aumento porcentual de llamadas del primer trimestre al cuarto?

- a) Consumo
- b) Hacienda
- c) Sanidad
- d) Educación

19.- Si durante el año ha habido siete operadores para responder a las llamadas del área de educación ¿qué número de llamadas, en promedio, ha atendido cada uno de ellos trimestralmente? Responda con aquella opción de respuesta que más se aproxime a la cifra exacta.

- a) 75
- b) 89
- c) 94
- d) 102

20.- En las siguientes oraciones algunas letras han sido sustituidas por un guion bajo (“_”). ¿En cuántas de las siguientes oraciones la letra que falta (“_”) debería llevar tilde?


- El h_bil operario terminó el trabajo.
- Este alumno acentu_ debidamente las palabras.
- El médico me dio un jarabe para la t_s.
- ¿C_mo se llama tu amigo?

- a) 0
- b) 1
- c) 2
- d) 3


Observe en cada ejercicio los cuatro cuadros con símbolos y escoja una respuesta (A, B, C o D) en función de los siguientes criterios:

- A. Si todos los cuadros son diferentes.
- B. Si hay dos cuadros iguales.
- C. Si hay tres cuadros iguales.
- D. Si todos los cuadros son iguales.


21.-



22.-



23.-



24.- He comprado directamente a la fábrica placas solares para calentar el agua. Su precio está marcado en 3.850€. Como compro directamente en la fábrica me rebajan el 40%, y cuando ya tengo el precio rebajado al hacerme la factura tengo que pagar el 18% de IVA. ¿Cuánto me cuestan al final las placas solares?

- a) 2.725,80 €
- b) 2.650 €
- c) 3.528,80 €
- d) 2.785 €

25.- ¿Cuál es la suma total de cuatro números, sabiendo que el primero es 40, el segundo 18 más que el primero, el tercero 28 más que el segundo y el cuarto 16 menos que el tercero?

- a) 254
- b) 228
- c) 214
- d) 258

26.- La palabra EMBRUJADAS es al número 7153426869 como DESBRUAR es a:

- a) 87935463.
- b) 89753463.
- c) 87953463.
- d) 89735463.

27.- SÍSTOLE es a CONTRACCIÓN como SUSPICACIA es a ...

- a) Recelo.
- b) Relajación.
- c) Confianza.
- d) Bondad.

28.- CONCULCAR es a CUMPLIR como INCITAR es a ...

- a) Restringir.
- b) Disuadir.
- c) Prohibir.
- d) Instigar.



29.- Señale la opción que contenga una palabra con significado diferente al resto de la misma serie:

- a) Exculpar, eximir, computar, sobreseer.
- b) Tarea, cometido, menester, misión.
- c) Escrúpulo, reparo, aprensión, remilgo.
- d) Apiolar, despachar, masacrar, liquidar.

30.- Señale el número que continúa la siguiente serie numérica:

1, 3, 5, 7, 9, _

- a) 13
- b) 11
- c) 10
- d) 12